

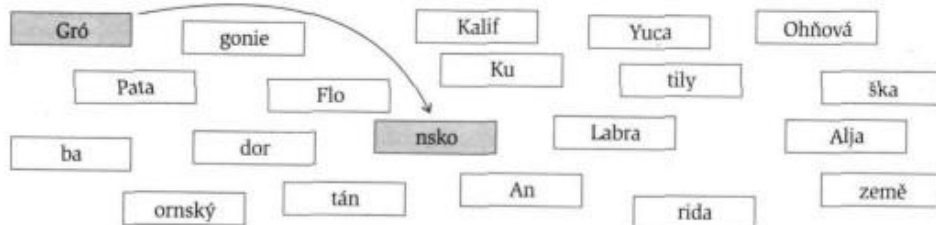
- 3 -

Světadíl Amerika

POVRCH A VODSTVO AMERIKY

1/ Sestavte názvy

Spojte dva rámečky tak, abyste získali názvy deseti amerických ostrovů a poloostrovů.



2/ Doplňte tabulku

K poloostrovům připište do tabulky názvy států a jejich hlavních měst. Použijte atlas.

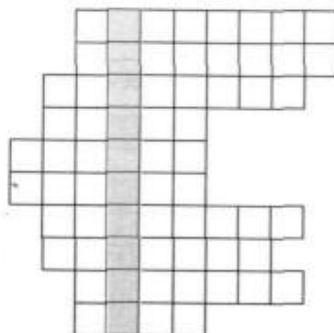
poloostrov	stát	hlavní město
Yucatán		
Labrador		
Florida		
Patagonie		
Aljaška		

Nápověda: USA, Mexiko, Kanada, Argentina, Brazílie, Ciudad de México, Ottawa, Brasília, Washington, Buenos Aires (pozor – jeden stát použijete dvakrát a jeden nepoužijete vůbec).

3/ Vyřešte doplňovačku

Určete s pomocí atlasu názvy států podle jejich zeměpisné polohy. V tajence je název nejdůležitějšího amerického pohorí. Jak se jmenuje jeho část ležící v Jižní Americe?

30° v. z. d., 50° s. z. š.
 75° z. z. d., 3° s. z. š.
 60° z. z. d., 22° j. z. š.
 80° v. z. d., 20° s. z. š.
 100° z. z. d., 20° s. z. š.
 10° v. z. d., 45° s. z. š.
 88° z. z. d., 14° s. z. š.
 105° v. z. d., 21° s. z. š.
 55° z. z. d., 33° j. z. š.
 33° v. z. d., 35° s. z. š.



TAJENKA

Část tohoto pohorí, ležící v Jižní Americe,
se jmenuje

- 4 -

Světadíl Amerika

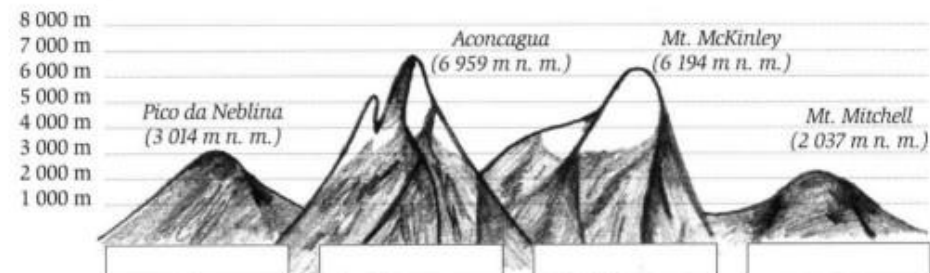
4/ Vypočítejte

Jedním z důsledků rozdílné členitosti Severní a Jižní Ameriky je nesterádná délka pobřeží:

Severní Amerika	75 600 km	Vypočítejte, za jak dlouho byste obešli pobřeží Ameriky pěšky. Srovnejte délku pobřeží s délkou rovníku. Délku denního pochodu odhadněte podle vlastních možností.
Jižní Amerika	28 700 km	
Ameriku bych obešel za		

5/ Doplňte do obrázku

Podle uvedených vrcholů zjistěte a dopište názvy pohorí (použijte atlas).



PODNEBÍ A KRAJINY AMERIKY

1/ Vyberte pravdivá tvrzení

Podle map v atlase a v učebnici na str. 10 a 11 rozhodněte o pravdivosti následujících výroků.

Pouště se v Americe vyskytují pouze v tropickém podnebném pásu.	ANO NE
Na pobřeží Ameriky se můžeme setkat s pouštěmi.	ANO NE
V Americe jsou zastoupeny všechny podnebné pásy.	ANO NE

2/ Sestrojte diagramy

a) Nejprve sestrojte diagramy podnebí měst Toronto a Manausu, potom doplňte tabulku.

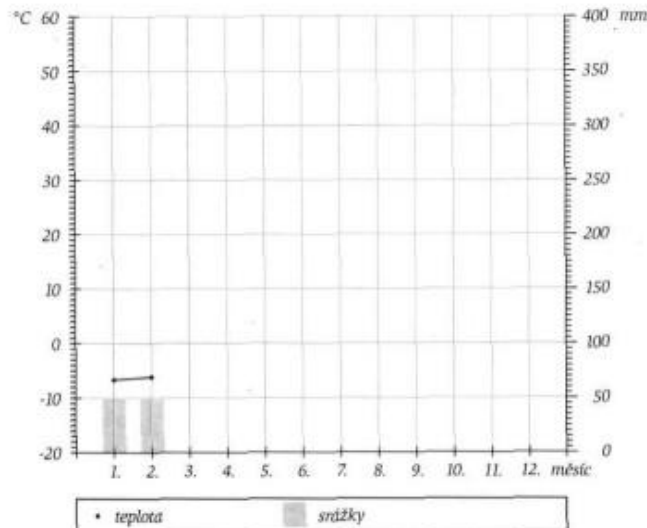
	Toronto	Manaus
podnebný pás		
měsíc s nejvyšší teplotou		
měsíc s největšími srážkami		
roční chod teplot (vyrovnané nebo nevyrovnané)		
roční chod srážek (vyrovnané nebo nevyrovnané)		

- 5 -

Světadíl Amerika

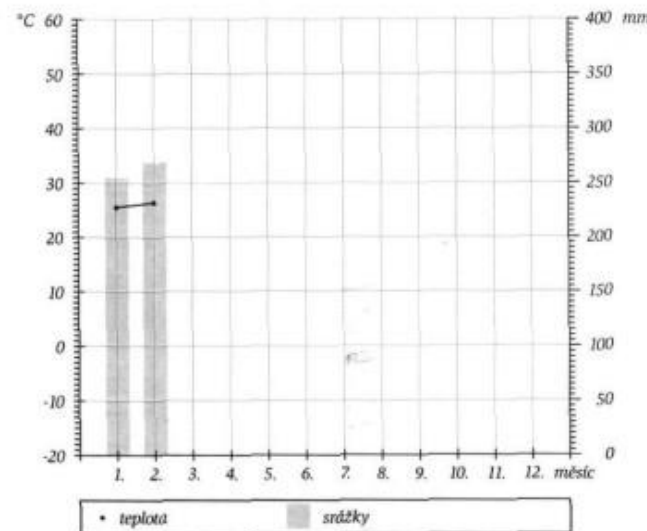
Toronto (173 m n. m.)		
měsíc	srážky	teploty
leden	46 mm	-6,7 °C
únor	46 mm	-6,1 °C
březen	57 mm	-0,8 °C
duben	64 mm	6,0 °C
květen	66 mm	12,3 °C
červen	69 mm	17,4 °C
červenec	77 mm	20,5 °C
srpen	84 mm	19,5 °C
září	74 mm	15,2 °C
říjen	63 mm	8,9 °C
listopad	70 mm	3,2 °C
prosinec	66 mm	-3,5 °C
celkem	782 mm	*7,1 °C

*průměrná teplota



Manaus (72 m n. m.)		
měsíc	srážky	teploty
leden	258 mm	25,8 °C
únor	274 mm	26,1 °C
březen	332 mm	26,1 °C
duben	303 mm	26,3 °C
květen	257 mm	26,3 °C
červen	115 mm	26,2 °C
červenec	83 mm	26,5 °C
srpen	55 mm	27,4 °C
září	84 mm	27,5 °C
říjen	108 mm	27,5 °C
listopad	180 mm	27,3 °C
prosinec	223 mm	26,6 °C
celkem	2 272 mm	*26,6 °C

*průměrná teplota



b) Vyhledejte na mapě místa, ke kterým jste sestavili diagramy podnebí, a určete jejich zeměpisnou polohu.

- 6 -

Světadíl Amerika

OBYVATELSTVO AMERIKY

1/ Doplňte mapu

Vyznačte v mapě úřední jazyky, používané v amerických státech. Využijte tabulku na straně 18.



Zvolte vhodný způsob, jak vyjádřit skutečnost, že v některých státech (Kanada, Peru, Bolívie) je více úředních jazyků.

2/ Doplňte podle atlasu

Doplňte do tabulky údaje o vybraných latinsko-amerických městech (použijte mapu Průměrné roční teploty vzduchu) a doplňte věty.

město	nadmořská výška (v m n. m.)	průměrné roční teploty vzduchu (ve °C)
Ciudad de México		
Bogotá		
Quito		
Cuzco		
La Habana		

Kde se všechna vyjmenovaná města nacházejí?

Proč jsou v tropických oblastech Ameriky velká města i v horských oblastech? (Srovnejte průměrné roční teploty s městy u pobřeží.)

3/ Doplňte tabulku

Vytvořte tabulku s údaji o pěti nejlidnatějších zemích Ameriky. Použijte učebnici.

stát	počet obyvatel (v milionech)	podíl na obyvatelstvu celé Ameriky (v %)

V pěti nejlidnatějších státech Ameriky žije dohromady _____ milionů obyvatel. To představuje _____ % všech obyvatel Ameriky.

- 7 -

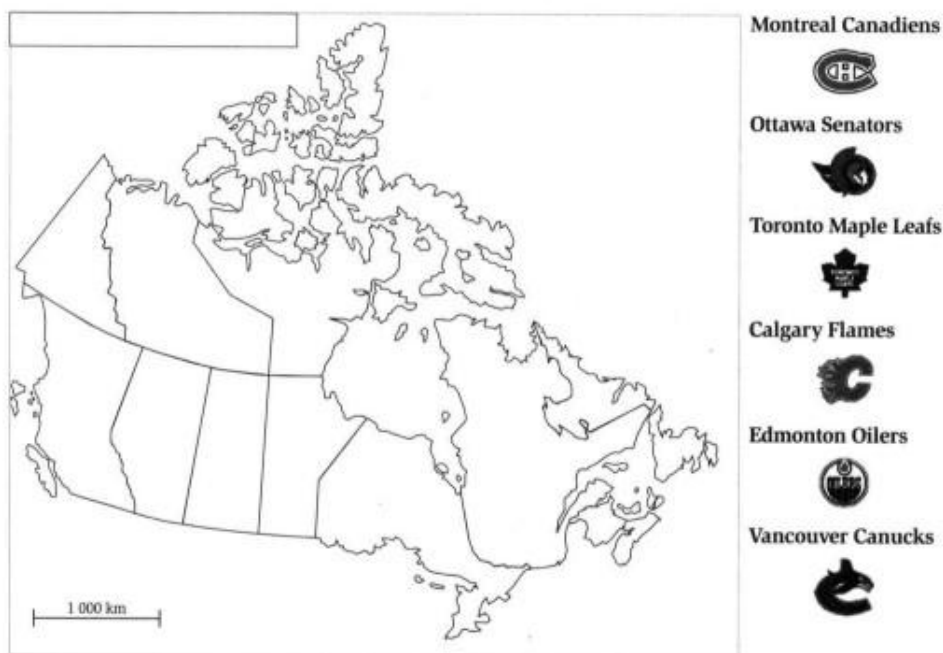
Anglosaská Amerika

KANADA

1/ Doplňte mapu

a) Doplňte do mapy názvy kanadských provincií a teritorií. Dokreslete okolní státy a mapu vybarvěte.
(Nápověda: Britská Kolumbie, Alberta, Saskatchewan, Manitoba, Ontario, Québec, Newfoundland, Ostrov prince Eduarda, New Brunswick (Nový Brunšvik), Nové Skotsko, Yukon, Severozápadní teritoria, Nunavut.)

b) Vyznačte do mapy města, ve kterých sídlí kanadské kluby – účastníci NHL.



2/ Vyluštěte

Původní byvatelé severní Kanady, Inuité, vymysleli:



I _ _ _ Ú

tradiční obydlí budované ze
sněhu



K _ _ _ _ K

speciální lovecký člun



H _ _ _ _ _ A

zbraň pro lov tuleňů, mrožů
a ryb

- 8 -

Anglosaská Amerika

3/ Test

Označte správně odpovědi (vždy pouze jednu).

A) Počet obyvatel Kanady:

- a) roste rychle v důsledku velké porodnosti
- b) roste rychle v důsledku přistěhovalectví
- c) klesá, protože Kanadčané se stěhují do USA
- d) klesá, protože drsné kanadské podnebí snižuje průměrnou délku života

B) Kanadská tajga:

- a) je zásobárnou dřeva, ze kterého se vyrábí hlavně novinový papír
- b) má velké zásoby dřeva, to je ale nekvalitní, a proto se spaluje v tepelných elektrárnách
- c) má velké zásoby dřeva, kvůli protestům ochránců přírody se ale vůbec netěží
- d) byla odlesněna už ve středověku

C) Část obyvatel Québecu chce provincii odtrhnout od Kanady, protože:

- a) území je velmi bohaté a musí na zbytek země doplácet
- b) se zbytkem země územě nesouvisí
- c) její obyvatelé mluví francouzsky, zatímco v ostatních provinciích se používá angličtina
- d) je k tomu nutí teroristé

PŘÍRODA A PŘÍRODNÍ ZDROJE USA

1/ Vytvořte diagram

a) Vytvořte diagram využití půdy v USA podle hodnot v tabulce. Postupujte tak, že za každé 1 % rozlohy USA vybarvíte jedno pole v připraveném čtverci. Barvy pro jednotlivé kategorie zvolte podle jejich převládající barvy v krajině.

VYUŽITÍ PŮDY V USA									

Kategorie využití půdy	Podíl rozlohy (v %)
Orná půda (pole)	19
Lesy	30
Louky a pastviny	25
Nevyužitá plocha (pouště, hory)	20
Vodní plochy (jezera, rybníky, ledovce)	5
Zastavěná území (města, letiště)	1

<input type="checkbox"/> Orná půda	<input type="checkbox"/> Louky a pastviny	<input type="checkbox"/> Vodní plochy
<input type="checkbox"/> Lesy	<input type="checkbox"/> Nevyužitá plocha	<input type="checkbox"/> Zastavěná území

b) Podle sestaveného diagramu rozhodněte, zda jsou následující tvrzení pravdivá.

Zemědělsky se využívá více než polovina území USA.	ANO NE
Orná půda tvoří pětinu plochy USA.	ANO NE
V USA je jen velmi málo lesů.	ANO NE

2/ Upravte věty

Vyškrtněte z následujících vět slova, která do nich nepatří.

Pohoří Kordillery se v USA skládá ze dvou pásem: Skalistých • Červených • Appalačských hor a Západního • Pobřežního • Vnitrozemského • Východního pásma. Mezi oběma pásmy jsou náhorní plošiny, např. Mormonská • Slaná • Velká pánev a Kolorádova • Coloradská • Kaňonovitá plošina. Střední část USA vyplňuje Mississippská nížina • Karibská nížina • Mexická nížina • nížina slečny Ississippiové. Na ní navazuje oblast Centrálních rovin a Malých • Středních • Velkých • Obrovských plošin. Na východním pobřeží USA je Apalačské • Appalačovo • Apačské • Appalačské pohoří.

3/ Doplňte

Doplňte podle obrázku následující věty:



Celková délka řeky Mississippi je _____ km a řeky Missouri _____ km. Nad jejich soutokem je sice Missouri o _____ delší než Mississippi, přesto dostal společný tok název Mississippi. Než se voda z pramenů Missouri dostane do Atlantského oceánu, urazí _____ km. Podobný případ máme i v České republice - řeka _____ je sice nad soutokem s _____ delší, společný tok však nese název _____.

HOSPODÁŘSTVÍ USA

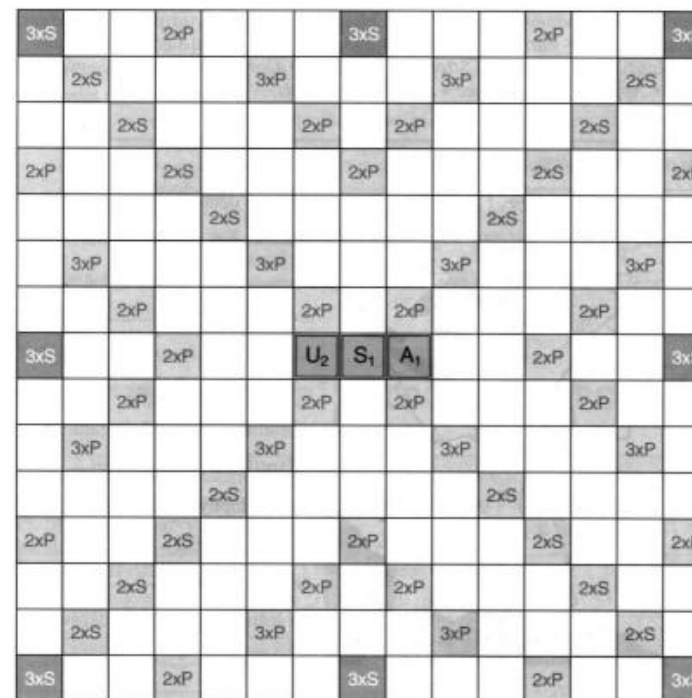
1/ Doplňte věty

Pokuste se bez pomoci učebnice správně doplnit následující věty. (Učebnici použijte ke kontrole.)

Průmysl USA zaměstnává ____ % Američanů a vytváří ____ % celkových příjmů země. Na výrobu železa a oceli se soustřeďuje průmyslová oblast na (světová strana) ____ země. Pro jižní průmyslovou oblast je nejdůležitější zpracování (doplňte surovinu) ____ . Výroba letadel se soustřeďuje v (světová strana) ____ části USA. Pro zemědělství USA se využívá přibližně ____ % z celkové plochy země.

2/ Scrabble

Z nabídnutých písmen se pokuste sestavit co nejvíce zeměpisných názvů z USA. Můžete použít pouze ty, které jsou uvedeny ve školním atlase. Při sestavování se řiďte pravidly hry scrabble a na závěr si spočítejte počet dosažených bodů.

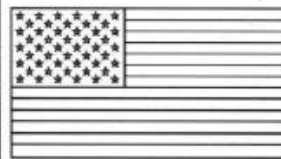


Základy pravidel: na písme musíte sestavit celá slova, každý vyřadíťe nové slovo, musí alespoň jedno z nové položek písmenkové strunové soustavy s některým písmenkem, které už na desce leželo; nové slovo, možné nové dotočkové položkami písmenky, musí být čitelné zleva doprava, nebo shora dolů. Při počítání bodů se sečtou bodové hodnoty použitých písmen, počítá 2+P a 3+P zjednodušují nebo zjednodušují hodnotu písmene, které je na nich položeno, počítá 2+S a 3+S zjednodušují nebo zjednodušují počet bodů celého slova, které je přes ně nasazeno.

OBYVATELSTVO A VÝZNAM USA

1/ Vybarvete vlajku

Vybarvěte vlajku USA správnými barvami a doplňte věty.



13 pruhů vlajky značí _____

50 pěticípých hvězd připomíná _____

T ₁	M ₂	M ₂	R ₁	S ₁	S ₁	Y ₁	K ₁	Y ₁	S ₁	V ₁	V ₁	U ₂	U ₂	Ú ₆	CH ₄	Ř ₄	L ₁	Š ₃	ř ₆	Z ₃	Ž ₄	L ₁
----------------	----------------	----------------	----------------	----------------	----------------	----------------	----------------	----------------	----------------	----------------	----------------	----------------	----------------	----------------	-----------------	----------------	----------------	----------------	----------------	----------------	----------------	----------------