

- 11 -
Latinská Amerika

2/ Doplňte mapu

a) Spojené státy se skládají z 50 členských států. Vyhledejte v atlase a doplňte do mapy polohu nejznámějších z nich.

STÁTY USA



b) Do mapy zakreslete 10 největších měst USA uvedených v tabulce.

Počet obyvatel 1999

město	vlastní město	město s předměstím
New York	7 428 162	20 196 649
Los Angeles	3 633 591	16 036 587
Chicago	2 799 050	8 885 919
Washington	519 000	7 359 044
San Francisco	746 777	6 873 645
Philadelphia	1 417 601	5 999 034
Boston	555 249	5 667 225
Detroit	965 084	5 469 312
Dallas	1 076 214	4 909 523
Houston	1 845 967	4 493 741

3/ Test

Označte správné odpovědi (může jich být více).

A) Hispánci jsou:

- žadatelé o americké občanství
- obyvatelé USA původem z Latinské Ameriky
- přistěhovalci z ostrova Haiti
- křesťanská náboženská sekta

B) O moc se v USA dělí:

- král, parlament a britský velvyslanec
- prezident, parlament a nejvyšší soud
- prezident a guvernér členských států
- prezident a ministr obrany

C) „Americký způsob života“ se vyznačuje:

- úctou k soukromému majetku
- touhou po úspěchu
- nezájmem o rodinu
- snahou vyhýbat se práci

D) Americká města:

- nemají výraznější význam
- jsou hlavními centry průmyslu a služeb
- soustřeďují většinu obyvatel USA
- leží všechna u pobřeží

MEXIKO A STÁTY STŘEDNÍ AMERIKY

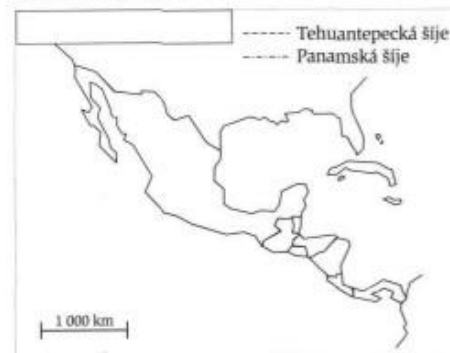
1/ Rozhodněte

Vyškrtněte všechna slova, která nesouvisí s Mexikem.

lední medvěd	španělština	iglú	Domažlice	tequilla	agáve
	sombrero	Indiáni	Jižní Amerika		

- 12 -
Latinská Amerika

2/ Doplňte mapu



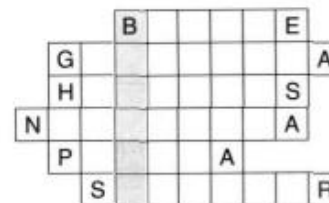
a) Vyznačte do mapy Tehuantepeckou a Panamskou šíji, vybarvěte v mapě území Střední Ameriky a mapu pojmenujte.

b) Podle mapy doplňte následující text.

Hranici mezi Severní a Jižní Amerikou je _____ šíje. V rámci Severní Ameriky se vymezuje _____ Amerika. Její hranici tvoří Tehuantepecká šíje. Vzhledem k tomu většina území Mexika je • *není* součástí Střední Ameriky.

3/ Vyřešte doplňovačku

Do doplňovačky запиšte názvy středoamerických států. V tajence je španělský (i anglický) výraz pro středoamerickou zemědělskou plodinu, která je ve světě nejznámější.



5/ Test

Označte všechna správná tvrzení.

A) O přírodě Mexika:

- V hornatém mexickém vnitrozemí je velmi chladno, a proto tam žije jen málo lidí.
- Vnitrozemí Mexika vyplňuje Mexická náhorní plošina.
- V Mexiku jsou sice častá zemětřesení, naštěstí tam ale nemají žádné sopky.
- Na severu Mexika je velké sucho.

B) O Mexičanech:

- Čtvrtina všech obyvatel žije v hlavním městě země.
- Obyvatelstvo sídlí hlavně na Mexické náhorní plošině.
- Čtvrtina Mexičanů pracuje v zemědělství.
- Mexiko je nejlidnatější zemí Latinské Ameriky.

C) O středoamerických pevninských republikách:

- Panama a Kostarika jsou nejrozvinutější země oblasti, protože v nich vládne armáda.

Ahoj Honzo!
Posílám Ti pozdrav z dovolené z Mexika. Jsem tu s rodiči. Hned po přistání jsme zjistili, že se tu vůbec nedomluvíme, protože většina Mexičanů mluví pouze mexicky.
Recepční v hotelu, kde jsme se ubytovali, naštěstí umí anglicky. Doporučil nám, abychom navštívili místní muzeum se sbírkami z dějin mexických Indiánů. Moc se mi tam líbilo, bylo mi ale líto Inků, jak špatně dopadli, když Mexiko dobyli Španělé.
Dnes je v Mexiku Indiánů málo, ve městech potkáš jen mulaty a bělochy.
Byl jsem také v hlavním městě. Je obrovské, určitě je největší v celé Střední Americe!

Jan Grepl
žák 8.
7.5.00 Olomouc
Čech Rep.



Pavel Sedláček

- 13 -
Latinská Amerika

- b) Panamský průplav není pro hospodářství Panamy přínosný, protože lodě neplatí za průjezd žádné poplatky.
c) Ve střeodoamerických zemích pracuje většina obyvatel v zemědělství.
d) Hlavním zdrojem příjmů Panamy je prodej textilních výrobků, zejména vlajeck.

OSTROVNÍ KARIBSKÉ STÁTY

1/ Rozhodněte

Vyškrtněte plodiny, které nejsou pro Střední Ameriku typické.

cukrová třtina cukrová řepa olivy banány citrusy tabák

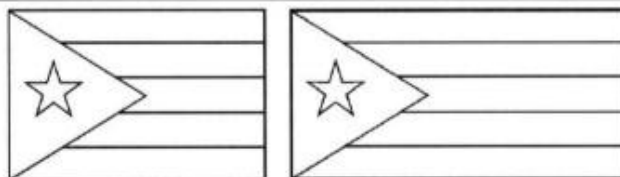
2/ Doplňte

Jen tři ostrovní státy v Karibském moři jsou významnějšími producenty surovin. Doplňte podle atlasu, které suroviny těží.

Kuba _____
Jamajka _____
Trinidad a Tobago _____

3/ Vybarvěte vlajky

Vlajky Portorika a Kuby si jsou mimofádně podobné, obě napodobují vlajku USA. Vezměte si na pomoc vhodnou literaturu a vlajky vybarvěte.



KOLUMBIE, VENEZUELA A GUYANY

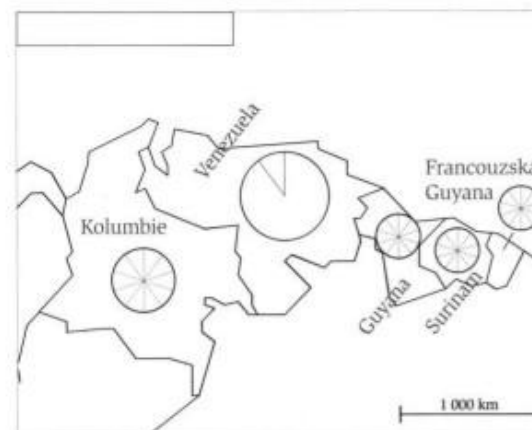
1/ Srovnajte

S použitím znamének „<“ a „>“ (menší, větší) porovnejte uvedené údaje o Venezuele a Kolumbii.

Rozloha	Venezuela	Kolumbie
Počet obyvatel	Venezuela	Kolumbie
Produkce kávy	Venezuela	Kolumbie
Vývoz ropy	Venezuela	Kolumbie
Vývoz květin	Venezuela	Kolumbie
Nadmořská výška hlavního města	Venezuela	Kolumbie
Počet států, s kterými sousedí	Venezuela	Kolumbie

- 14 -
Latinská Amerika

2/ Dokreslete diagramy



a) Zahraniční obchod karibských zemí se značně liší. Doplňte údaje o zahraničním obchodu do kruhových diagramů v mapě.

stát	hodnota vývozu	zemědělské výrobky (%)	suroviny (%)
Kolumbie	11,5 mld. \$	60	30
Venezuela	20,9 mld. \$	10	90
Guyana	0,6 mld. \$	50	50
Surinam	0,4 mld. \$	20	80
Franc. Guyana	0,2 mld. \$	90	10

struktura vývozu

☐ zemědělské výrobky
☐ suroviny
☐ ostatní

b) Srovnajte hodnotu vývozu karibských států s Českem (26,9 miliard dolarů).

3/ Test

Označte správná tvrzení (vždy jen jedno).

- A) Vodopád Salto Angel je:
a) nejširší na světě
b) nejvyšší na světě
c) nejteplejší na světě
d) nejznečištěnější na světě
- B) Slovo llanos je:
a) název venezuelského města
b) ve španělštině „provaz“
c) označení vlhké savany
d) sedmipísmenný výraz z křížovky
- C) V obyvatelstvu Kolumbie a Venezuely převažují:
a) mulati
b) mestici
c) běloši
d) Klingoni
- D) Francouzská Guyana je zámořské území:
a) Québecu
b) Evropské unie
c) Monaka
d) Francie

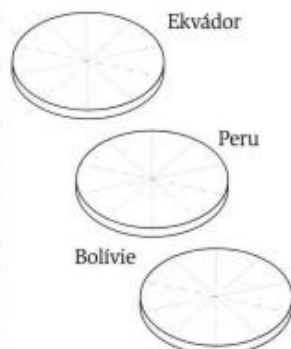
PERU, BOLÍVIE A EKVÁDOR

1/ Doplňte

a) V andských státech žijí hlavně Indiáni a míšenci. Jejich podíl na obyvatelstvu je ale v každé zemi rozdílný. Doplňte k mapě odpovídající kruhové diagramy.

stát	počet obyv. (v milionech)	podíl na obyvatelstvu		
		Indiáni	mestici	běloši
Ekvádor	12,9	30 %	60 %	10 %
Peru	27,0	50 %	30 %	20 %
Bolívie	8,2	60 %	30 %	10 %

- 15 -
Latinská Amerika



Indíáni
mestici
běloši
ostatní

Jednotlivé skupiny obyvatel rozlište barvou, jeden dílek v kruhovém grafu představuje 10 %.

b) Doplněte do mapy hlavní města uvedených států.

c) Vypočítejte podle údajů z tabulky počet Indiánů v jednotlivých andských státech a vyznačte příslušný počet do grafu.

stát	jedna postavička = 1 000 000 lidí
Ekvádor	
Peru	
Bolívie	

2/ Test

Označte správná tvrzení (vždy pouze jedno).

A) Indiánský jazyk značně rozšířený v andských státech je:

- španělština
- kečuánština
- indiánština
- portugalština

B) Zemědělci v andských státech pěstují vedle banánů a dalších běžných plodin i rostlinu, z které se vyrábí nebezpečná droga. Jedná se o:

- koku
- brambory
- mák
- žito

C) Peru s Ekvádorem mají vysoce rozvinutý rybolov, protože jejich pobřeží omývá:

- teplý Golfský oceánský proud
- studený Antarktický oceánský proud
- teplý Peruánský oceánský proud
- studený Peruánský oceánský proud


D) V latinskoamerických zemích vlastní půdu především:

- velkostatkáři
- bezzemci
- cizinci
- drobní rolníci

3/ Vyřešte doplňovačku

V tajence je název souostroví, jehož jedineční živočichové a rostliny poskytly Ch. Darwinovi podklady pro jeho teorii o původu druhů.

- dětská stavebnice
- naše hlavní město
- řeka tekoucí podél pyramid
- nedostatek jídla
- bílý pták s velkým zobákem
- zvíře, jehož maso nesmíte jíst židé a muslimové
- asijská šelma
- 2 × 20 - 36



4/ Rozhodněte

Rozhodněte, která tvrzení jsou pravdivá.

Brazílie je převážně indiánská země.	ANO NE
Brazilci se příkladně starají o tropický deštný les.	ANO NE
V Brazílii se pěstuje hodně kávy.	ANO NE
Brazílie vyváží hlavně suroviny a zemědělské produkty.	ANO NE
V Brazílii je zakázáno hrát fotbal.	ANO NE
Brazílie má velké zdroje vodní energie.	ANO NE

ARGENTINA, CHILE, PARAGUAY A URUGUAY

1/ Vyřešte doplňovačku

V tajence je skryt název největší a nejlidnatější země Jižního cípu.

nejvyšší hora Ameriky									
surovina těžená ve Venezuele									
jihomoerický kovboj									
jeden z andských států									
největší město USA									
jihomoerické jezero									
původní obyvatelé Ameriky									
středoamerický stát s velkým jezerem									
jméno Vespucciho									

2/ Doplňte tabulky

a) Doplňte s pomocí atlasu a učebnice tabulku a srovnajte tři zeměpisné oblasti Jižní Ameriky.

	podobní	převládající vegetace	pěstované zeměd. plodiny	chovaná zvířata
Amazonská nížina				
Brazílská vysočina				
Lapiátská nížina				

b) Argentina i USA jsou světové obilnářské velmoci. Základnou pěstování obilí je v obou zemích oblast stepí, proto jsou způsoby hospodaření podobné. Podobné věci se ale často nazývají jinak. Doplňte.

	USA	ARGENTINA
Místní označení stepí	PRÉRIE	
Honák dobytka	KOVBOJ	
Velké zemědělské hospodářství	FARMA, RANČ	